

I. LENGUAJES FORMALES. CONCEPTOS BÁSICOS DE LENGUAJES

Símbolo o carácter: Unidad mínima en un lenguaje.

Alfabeto: Conjunto no vacío y finito de símbolos. A estos símbolos también se les suele llamar letras del alfabeto. Se denota con **la letra griega Σ** . Ejemplos:

$$\Sigma_1 = \{a, b, c, \dots, z\}, \quad \Sigma_2 = \{0, 1\}$$

Cadena o Palabra: Secuencia finita de símbolos de un alfabeto. Lo correcto es hablar de “palabras definidas sobre un alfabeto”. Habitualmente utilizaremos en nuestros ejemplos las últimas letras minúsculas de nuestro alfabeto (x, y, z) para denotar a las palabras. Ejemplos:

x = **casa** es una palabra definida sobre el alfabeto Σ_1

y = **010100** es una palabra definida sobre el alfabeto Σ_2

Cadena o Palabra Vacía: Es una palabra que no tiene ningún símbolo y se representa como e.

Longitud de una palabra: es el número de símbolos que componen la palabra. Se representa utilizando dos barras verticales (| |). Ejemplos:

$$|x| = 4, |y| = 6, |e| = 0$$

Lenguaje: Conjunto de palabras escritas sobre un alfabeto específico, ejemplo {aaa, abba, bbbaaa} es un lenguaje sobre $S = \{a, b\}$.

Si L definido sobre un alfabeto Σ , es un conjunto cualquiera de palabras definidas sobre dicho alfabeto, por lo tanto, $L \subset \omega(\Sigma)$.

Lenguaje Universal: Definido sobre un alfabeto es el conjunto de todas las palabras que se pueden construir con las letras de dicho alfabeto. Se denota por $\omega(\Sigma)$. El lenguaje universal de cualquier alfabeto es infinito, y siempre pertenece a él la palabra vacía.

Ejemplo: si $\Sigma = \{a\}$ entonces $\omega(\Sigma) = \{\epsilon, a, aa, aaa, \dots\}$

Lenguaje vacío: Es el que está compuesto por ninguna cadena y se denota como \emptyset que es diferente al lenguaje que contiene la cadena vacía. $\emptyset \neq \{\epsilon\}$ y $\emptyset \neq \{e\}$

Si Σ es un alfabeto y w es una cadena sobre S. Si L es un lenguaje formado por algunas de las cadenas sobre Σ y si w está en L, entonces se dice que w es un elemento de L. Esto es $w \in L$.

El lenguaje universal sobre Σ se conoce como cerradura de Σ y se denota por:

Σ^* donde * va a significar 0 o más.

$$\Sigma^1 = \{a, b\}$$

$$\Sigma^0 = \{\epsilon\}$$

$$\Sigma^0 = \Sigma^0 \dot{\cup} \Sigma^1 \dot{\cup} \Sigma^2 \dots = \{\epsilon, a, b, aa, ab, ba, bb, \dots\}$$

II. OPERACIONES CON CADENAS

En este apartado se presenta una colección de operaciones que se pueden realizar con palabras y las propiedades que cumplen estas operaciones

Concatenación: Sean x e y dos palabras, se concatenan para formar otra palabra que se denota xy y que está formada por todas las letras de x seguidas por las letras de y .

Ejemplo: $x = \text{casa}$ $y = \text{blanca} \Rightarrow xy = \text{casablanca}$

Propiedades:

- **Operación cerrada.** Si x e y están definidas sobre el mismo alfabeto, xy también lo estará.
- **Asociativa.** $(xy)z = x(yz)$.
- **Elemento neutro (ε).** $x\varepsilon = \varepsilon x = x$.
- $|xy| = |x| + |y|$.
- No es una operación conmutativa.

Potencia i-esima de una palabra (x^i): Consiste en concatenar una palabra x consigo misma i veces. $x^i = x \dots x$

Ejemplo: $x = \text{la} \Rightarrow x^4 = \text{lalalala}$

Propiedades:

- $x^{i+j} = x^i x^j$
- $|x^i| = i |x|$
- $x^0 = \varepsilon$

Reflexión (o inversa) de una palabra (x^{-1}): Es otra palabra definida sobre el mismo alfabeto y formada por los mismos símbolos que x , dispuestos en orden inverso.

Ejemplo: $x = \text{casa} \Rightarrow x^{-1} = \text{asac}$

Propiedad: $|x| = |x^{-1}|$

Igualdad de cadenas: Si w y z son cadenas se dice que w es igual a z si tienen la misma longitud y los mismos símbolos en la misma posición y se denota mediante $w = z$.

Sufijo y Prefijo de Cadenas sobre un alfabeto: Si w y x son cadenas se dice que x es prefijo de w si para alguna cadena y se obtiene que $w = xy$. Si $y = \varepsilon$ entonces para $w = xy$ se tiene

que $w = x$, con lo que toda cadena puede considerarse prefijo de sí misma. ϵ Es prefijo de cualquier cadena. (Lo mismo para sufijo.)

Prefijo Propio: Cadenas que son prefijo de una palabra, pero no iguales a la misma (lo mismo para Sufijo Propio.)

Subcadena: w es una subcadena de z si existen las cadenas x e y para las que $z = xwy$.

III. OPERACIONES CON LENGUAJES

Como hemos visto anteriormente un lenguaje definido sobre un alfabeto no es más que un subconjunto del lenguaje universal de ese alfabeto. Por ejemplo, si $\Sigma = \{0,1\}$, podemos definir diferentes lenguajes sobre ese alfabeto:

$$L_1 = \{x/|x| = 4\} \quad L_2 = \{0^n 1^n / n > 0\}$$

$$L_3 = \{x / x \text{ no contenga un número par de 0's}\}$$

Sobre cualquier alfabeto se pueden definir lenguajes especiales como el lenguaje vacío, que se representa como $L_\emptyset = \emptyset$ y que no tiene ninguna palabra. También existe el lenguaje que contiene solamente la palabra vacía $L_\varepsilon = \{\varepsilon\}$.

Se presentan, a continuación, diferentes operaciones que se pueden definir sobre los lenguajes. Casi todas están basadas en las operaciones sobre palabras que se explicaron en la sección anterior.

Unión de lenguajes La unión de dos lenguajes L_1 y L_2 definidos sobre el mismo alfabeto Σ es otro lenguaje, también definido sobre ese alfabeto, que contiene todas las palabras de L_1 y todas las de L_2 .

$$L = L_1 \cup L_2 = \{x/x \in L_1 \vee x \in L_2\}$$

Propiedades:

- **Operación cerrada.** El lenguaje resultante está definido sobre el mismo alfabeto que L_1 y L_2 .
- **Asociativa.** $(L_1 \cup L_2) \cup L_3 = L_1 \cup (L_2 \cup L_3)$
- **Conmutativa.** $L_1 \cup L_2 = L_2 \cup L_1$
- **Elemento Neutro (\emptyset).** $L \cup \emptyset = \emptyset \cup L = L$
- **Idempotencia.** $L \cup L = L$

Concatenación Sean dos lenguajes L_1 y L_2 definidos sobre el mismo alfabeto Σ , la concatenación de ambos lenguajes estará formada por todas las palabras obtenidas al concatenar una palabra cualquiera de L_1 con otra de L_2 .

$$L = L_1 L_2 = \{xy/x \in L_1 \wedge y \in L_2\}$$

Propiedades:

- **Operación cerrada.** El lenguaje resultante está definido sobre el mismo alfabeto que L_1 y L_2 .
- **Asociativa.** $(L_1 L_2) L_3 = L_1 (L_2 L_3)$
- **Elemento Neutro ($L_\varepsilon = \{\varepsilon\}$).** $L_\varepsilon L = L L_\varepsilon = L$
- No es conmutativa.

Potencia i-esima Es el resultado de concatenar un lenguaje consigo mismo un número i de veces. $L^i = L \dots L$

Propiedades:

- $L^{i+j} = L^i L^j$
- $L^0 = L_\epsilon = \{\epsilon\}$

Clausura (o cierre de Kleene) La clausura de un lenguaje (L^*) es el resultado de unir todas las potencias de dicho lenguaje, es decir,

$$L^* = \bigcup_{i=0}^{\infty} L^i$$

Clausura positiva La clausura positiva de un lenguaje (L^+) es la unión de todas las potencias de ese lenguaje, exceptuando la potencia cero.

$$L^+ = \bigcup_{i=1}^{\infty} L^i$$

Propiedades:

- $L^* = L^+ \cup \{\epsilon\}$
- $L^+ = L^* L = L L^*$
- $\omega(\Sigma) = \Sigma^*$

En este caso el alfabeto es considerado como un lenguaje, concretamente el formado por todas las cadenas de longitud 1.

- $\Sigma^+ = \Sigma^* \setminus \{\epsilon\}$

Reflexión La reflexión de un lenguaje (L^{-1}) está formada por las inversas de todas las palabras de ese lenguaje. $L^{-1} = \{x^{-1} / x \in L\}$

IV. LENGUAJES REGULARES

1.- Escribir expresiones regulares para los siguientes lenguajes:

- El conjunto de cadenas del alfabeto $\{a, b\}$ que contengan cualquier cantidad de a 's seguida por una única b .
- El conjunto de todas las cadenas de a 's y b 's que cada a está entre 2 b 's.
- El conjunto de cadenas del alfabeto $\{a, b, c\}$ que contengan por lo menos una a y por lo menos una b .
- El conjunto de todas las cadenas de ceros y unos que tienen al menos dos ceros consecutivos.
- El conjunto de cadenas de ceros y unos cuyo número de unos sea par.
- El conjunto de cadenas de ceros y unos que tengan cuando mucho un par de unos consecutivos.
- El conjunto de cadenas de ceros y unos que no contengan 101 como subcadena.

2.- Construir AFD que acepten cada uno de los siguientes lenguajes:

- $\{w \in \{a, b\}^* \mid \text{cada } a \text{ en } w \text{ está inmediatamente seguida por una } b\}$.
- $\{w \in \{a, b\}^* \mid w \text{ tiene abab como subcadena}\}$.
- $\{w \in \{a, b\}^* \mid w \text{ no tiene ni aa ni bb como subcadena}\}$.
- $\{w \in \{a, b\}^* \mid w \text{ tiene un número impar de } a\text{'s y un número par de } b\text{'s}\}$.
- $\{w \in \{a, b\}^* \mid w \text{ tiene tanto ab como ba como subcadenas}\}$.

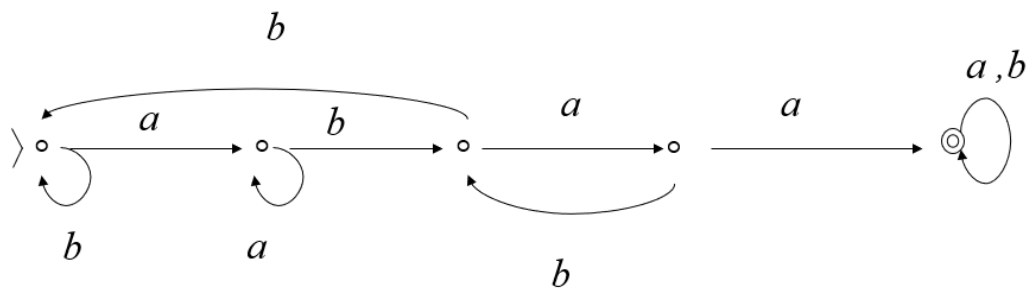
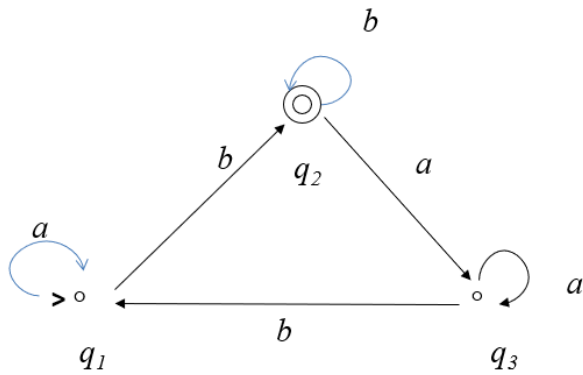
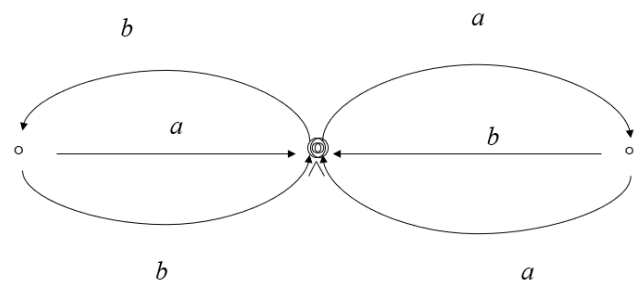
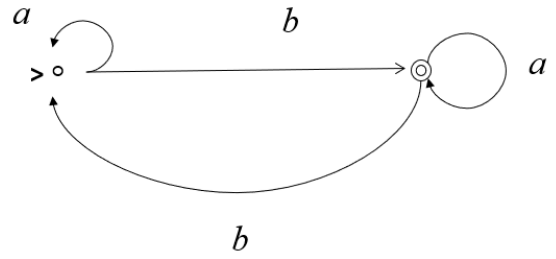
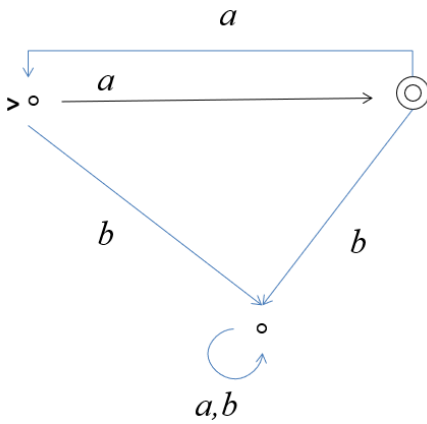
3.- Obtener un AFN que acepte los siguientes lenguajes:

- $ab^* \cup ab^*a$.
- $\{w \mid w \text{ termina en } 01\}$.
- El conjunto de cadenas basadas en el alfabeto $\{0,1, 2, \dots,9\}$ cuyo último dígito haya aparecido antes en la misma entrada.
- El conjunto de cadenas basadas en el alfabeto $\{0,1, 2, \dots,9\}$ tales que el último dígito NO haya aparecido antes en la misma entrada.

4.- Dibujar los diagramas de AFN que acepten los siguientes lenguajes y convertirlos a AFD:

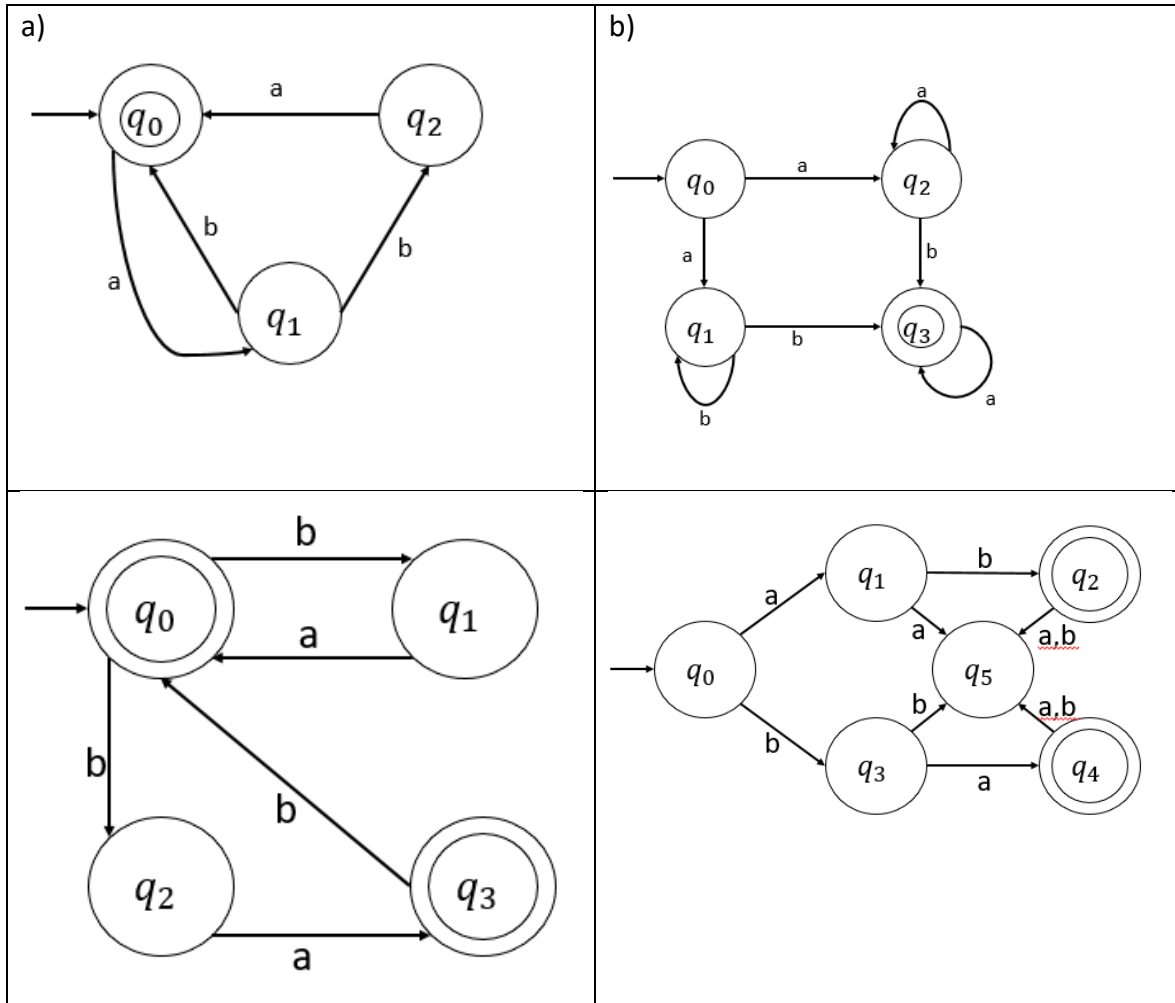
- $(ab)^*(ba)^* \cup aa^*$
- $((ab \cup aab)^*a^*)^*$
- $((a \cup b)^*(ab \cup ba^*b))^*$

5.- Escribir la expresión regular de los siguientes autómatas:



V. LENGUAJES INDEPENDIENTES DEL CONTEXTO

1. Obtenga la gramática regular de los siguientes AFN



2. Obtenga los AFN de las siguientes gramáticas regulares

<p>a)</p> $S \rightarrow aA \mid bB$ $A \rightarrow aC \mid bC$ $B \rightarrow aC$ $C \rightarrow aD$ $D \rightarrow aE$ $E \rightarrow aD \mid bD \mid \epsilon$	<p>b)</p> $S \rightarrow aS \mid bS \mid bA$ $A \rightarrow bS \mid aB \mid bB$ $B \rightarrow aA \mid bA \mid bB$	<p>c)</p> $S \rightarrow aA$ $A \rightarrow aB$ $B \rightarrow aA \mid aC$ $C \rightarrow \epsilon$	<p>d)</p> $S \rightarrow aAc$ $A \rightarrow aAc \mid bBc$ $C \rightarrow bBc \mid \epsilon$
--	--	--	--

3. Genera un GIC para los siguientes problemas:

a) $L = \{a^i b^{i^3} \mid i \geq 1\}$

b) $L = \{ab^i d \mid i \geq 0\}$

c) $L = \{x^a z^a \mid a \geq 0\}$

d) $L = \{a^n c^m \mid n \geq 0 \text{ y } m \geq 0\}$

e) $L = \{w^n x^m y^n z^m \mid n \geq 0 \text{ y } m \geq 1\}$

4. Simplifica las siguientes gramáticas lo máximo posible

<p>a)</p> $S \rightarrow Aa \mid Ba \mid B$ $A \rightarrow Aa \mid \epsilon$ $B \rightarrow aA \mid BB \mid \epsilon$	<p>c)</p> $S \rightarrow ACBa \mid D$ $A \rightarrow bbC \mid \epsilon$ $B \rightarrow Sc \mid ddd$ $C \rightarrow eA \mid f \mid C$ $D \rightarrow E \mid SABC$ $E \rightarrow gh \mid \epsilon$	<p>d)</p> $S \rightarrow A \mid B$ $A \rightarrow C \mid D$ $B \rightarrow D \mid E$ $C \rightarrow S \mid a \mid \epsilon$ $D \rightarrow S \mid b$ $E \rightarrow S \mid c \mid \epsilon$
---	--	--

5. Elimina la recursividad por la izquierda de las siguientes gramáticas

<p>a)</p> $S \rightarrow Sa \mid Ab \mid Bc \mid d$ $A \rightarrow Se \mid f$ $B \rightarrow Sg \mid h$	<p>b)</p> $S \rightarrow Aa \mid b$ $A \rightarrow Ac \mid Sd \mid \epsilon$	<p>c)</p> $S \rightarrow Sba \mid bA$ $A \rightarrow Bc \mid d$ $B \rightarrow Sab \mid Ab \mid c$
---	---	--

6. Encuentra el ADPND de los siguientes problemas

a) $L = \{d^{x+y}c^x \mid x \geq 1 \text{ y } y \geq 1\}$

b) $L = \{w^{3a}x^b \mid b \geq 1 \text{ y } a \geq 0\}$

c) $L = \{a^n b^{2n} \mid n \geq 1\}$

d) $L = \{d^{2x}ca^y \mid x \geq 0 \text{ y } y \geq 1\}$

e) $L = \{h^i j^{2i} k^{3n} \mid 0 \leq n < i \text{ y } i \geq 1\}$

VI. MÁQUINAS DE TURING

1. Obtenga de forma gráfica la máquina de Turing de los siguientes lenguajes

- a) $L = \{a^n b^{2n} c^{2n} \mid n \geq 0\}$
- b) $L = \{(ab)^n c^n (ba)^n \mid n \geq 1\}$
- c) $L = \{a^n b^n c^{n+1} \mid n \geq 0\}$
- d) $L = \{a^n b^{n+1} a^{2n} \mid n \geq 0\}$
- e) $L = \{a^n b^n a^n b^m \mid n \geq 0 \text{ y } m \geq 0\}$

2. Para los lenguajes del punto 1 obtenga las transiciones (δ) de la máquina de Turing de cada uno de los incisos.